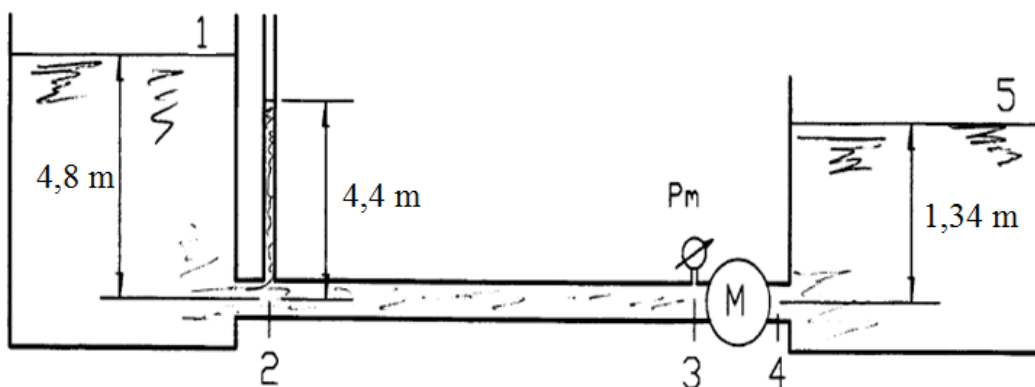
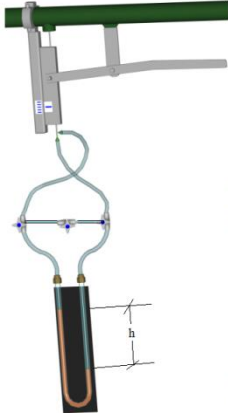


Atividade 1 – 04/02/2014 – turma das 9:00 horas

1ª Questão: O conduto da figura tem diâmetro interno igual a 77,9 mm ($A = 47,7 \text{ cm}^2$) e a pressão no manômetro é $p_m = 0,72 \text{ kgf/cm}^2$. As perdas de carga entre as seções 1 e 2 (ou 2 e 1) e entre 4 e 5 (ou 5 e 4) são respectivamente 0,1225 m e 0,2775 m. O fluido é água com massa específica igual a 1000 kg/m^3 . Considerando a aceleração da gravidade igual a $9,8 \text{ m/s}^2$, calcule a vazão; o coeficiente de perda de carga distribuída; a perda de carga total na instalação; o tipo de máquina; a sua carga manométrica e a potência do fluido.



2ª Questão: Na experiência do tubo de Pitot, instalado no $r = 15 \text{ mm}$, foi obtido um desnível (h) do fluido manométrico (isoparafina 13/15 + bromofórmio + corante - $\rho_m = 2890 \text{ kg/m}^3$) igual a 136 mm. Nesta situação foi determinado o tempo (t) em s para que o nível d'água subisse 100 mm no interior do tanque superior ($A_{\text{tanque}} = 0,5476 \text{ m}^2$) que é alimentado pela tubulação aonde o Pitot está instalado. Pede-se determinar: **a)** a velocidade real, especificando se é máxima ou não, pelo tubo de Pitot; **b)** a vazão pelo tubo de Pitot e **c)** sabendo que a vazão no tanque superior é 5% maior do que a determinada pelo Pitot especifique o tempo (t) em s para que o nível d'água suba o 100 mm no interior do tanque.



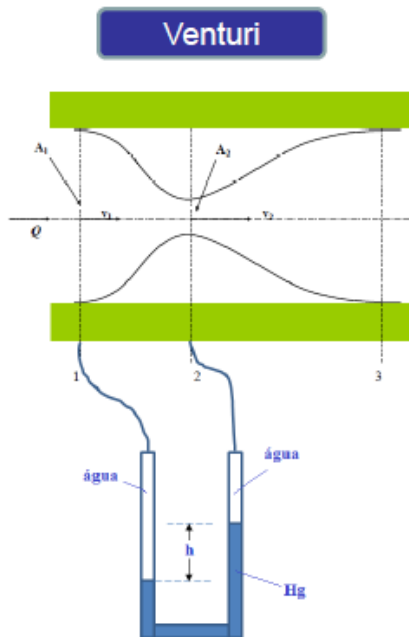
Dados:

$$\rho_{\text{água}} = 997,8 \frac{\text{kg}}{\text{m}^3}$$

$$v_{\text{água}} = 0,957 * 10^{-6} \text{ m}^2/\text{s}$$

Pitot instalado no tubo de
 $D_{\text{int}} = 40,8 \text{ mm}$ com a área
 igual a $13,1 \text{ cm}^2$

3ª Questão: O Venturi é um tubo convergente/divergente, como é mostrado na figura a seguir. Considerando um fluido ideal, obteve-se na seção de aproximação (seção 1) uma velocidade de 2 m/s. Nesta situação, determine o desnível do fluido manométrico (**h**), que no caso é o mercúrio.



Dados:

$$D_1 = 40,8 \text{ mm}; A_1 = 13,1 \text{ cm}^2;$$

$$D_2 = 25 \text{ mm}; A_2 = 4,91 \text{ cm}^2;$$

$$g = 9,8 \text{ m/s}^2;$$

$$\rho_{\text{água}} = 998 \text{ kg/m}^3;$$

$$\rho_{\text{mercúrio}} = 13543 \text{ kg/m}^3.$$

4ª Questão: Um manômetro diferencial está ligado a dois reservatórios. Determine a diferença de cota entre os níveis de água dos reservatórios para a situação em que o desnível lido no manômetro é 30 cm.

